



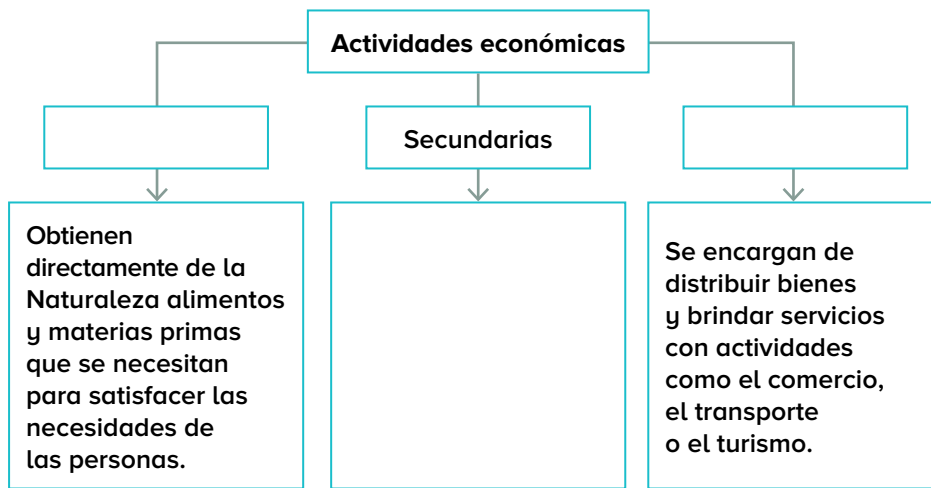
# Actividades económicas primarias, secundarias y terciarias en el mundo

Contenido curricular indispensable: Relaciona procesos de producción, transformación y comercialización de diferentes productos en el mundo.



## Antes de empezar

1. Completa el esquema sobre las actividades económicas.



2. Observa las fotografías y escribe debajo de cada una el tipo de actividad económica que representa, primaria, secundaria o terciaria.





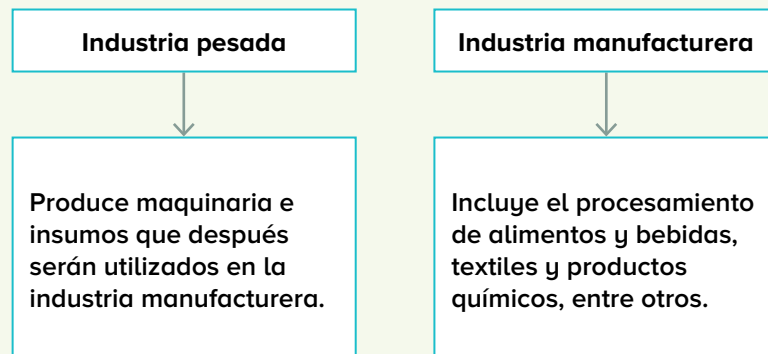
## Actividades económicas en el mundo

Los productos y servicios que se utilizan para satisfacer necesidades humanas como alimentación, vestido, vivienda y otras se originan en tres tipos de **actividades económicas**: primarias, secundarias y terciarias.

Las **actividades primarias** son aquellas mediante las cuales se aprovechan directamente los recursos que nos ofrece la Naturaleza, como el suelo, la fauna y la vegetación. Estas actividades son la agricultura, ganadería, pesca y aprovechamiento forestal o silvicultura. Sus productos pueden ser aprovechados de forma directa o industrializados y se comercializan a escala local, regional e internacional.

La **minería** no se considera propiamente una actividad económica primaria, ya que los minerales y energéticos que obtiene necesitan un proceso industrial antes de ser utilizados. Los países productores de minerales y energéticos requieren de gran poder económico para explotarlos y no siempre lo pueden hacer, por lo que son otros, con mayor industrialización, quienes más se benefician de estos recursos naturales.

Las **actividades secundarias** comprenden la **industria** en todas sus formas e incluyen todas las labores para procesar los productos que se obtienen en las actividades primarias. De manera general, la industria se clasifica en dos grandes ramas:



Los países que han desarrollado la industria, sobre todo la pesada, son conocidos como **países industrializados**. Estos países venden a otras naciones del mundo tanto maquinaria como productos elaborados.

Para su consumo, los productos de las actividades económicas primarias y secundarias son llevados hasta nuestros hogares mediante un proceso que incluye diversas actividades de **transporte** y **comercialización**, las cuales forman parte del sector **terciario** de la economía.

Además del transporte y el comercio, las actividades económicas terciarias incluyen los diferentes **servicios** que requiere la sociedad para su mejor funcionamiento. Existen servicios de **comunicación**, entre los que destacan la televisión, telefonía e internet; **profesionales**, como los que ofrecen abogados, contadores o médicos; **turísticos**; servicios **públicos**, administración gubernamental, educativos, entre otros.

1. Clasifica cada actividad económica mediante el número que corresponde.

1. Agricultura

2. Ganadería

3. Pesca

4. Aprovechamiento forestal

5. Minería

Las actividades primarias consisten en...	Sus productos son, entre otros,
la crianza de especies animales que se utilizarán como alimento para la población. <input type="checkbox"/>	pescados, camarones y ostiones. <input type="checkbox"/>
la extracción de minerales de los yacimientos en los que se encuentran. <input type="checkbox"/>	hidrocarburos, metales, piedras preciosas y arenas. <input type="checkbox"/>
el cultivo de plantas y árboles para obtener vegetales, frutos y semillas. <input type="checkbox"/>	cereales, leguminosas, frutas y verduras. <input type="checkbox"/>
la captura de peces y especies marinas de aguas oceánicas y continentales. <input type="checkbox"/>	maderas, resinas y hierbas medicinales. <input type="checkbox"/>
la extracción de maderas y plantas de bosques, selvas y matorrales. <input type="checkbox"/>	carnes, huevo y leche. <input type="checkbox"/>

2. Une los textos que se complementan.

Los países que cuentan con grandes planicies y disponibilidad de agua desarrollan la...

ganadería, como las planicies de Argentina.

Las regiones con pastizales naturales son propicias para la...

minería; por ejemplo, Sudáfrica, con la extracción de piedras preciosas.

Las regiones con bosques de clima tropical y templado favorecen las actividades...

pesquera, sobre todo si tienen pocos espacios para desarrollar otras actividades primarias, como Japón.

Los países que cuentan con importantes yacimientos minerales desarrollarán la...

agricultura; por ejemplo, Estados Unidos de América o China.

Los países que cuentan con acceso al mar desarrollan la actividad...

forestales, como en los bosques de Canadá o de Siberia, en Rusia.


Aprende en casa




bit.ly/3b59Gll


3. Ordena las figuras de 1 a 7 de acuerdo con el proceso de producción-consumo.

- |                                       |  |                        |
|---------------------------------------|--|------------------------|
| 1. Producción                         | 3. Procesamiento                       | 5. Comercio al mayoreo |
| 2. Traslado al lugar de procesamiento | 4. Transporte al lugar de distribución | 6. Comercio al menudeo |
|                                       |  | 7. Consumo en el hogar |

















4. Colorea los recuadros según la clave de la etapa del proceso producción-consumo.

- |  |   |   |
|--|---|---|
| <span style="display: inline-block; width: 15px; height: 15px; background-color: green; margin-right: 5px;"></span> Producción | <span style="display: inline-block; width: 15px; height: 15px; background-color: yellow; margin-right: 5px; margin-left: 100px;"></span> Transporte | <span style="display: inline-block; width: 15px; height: 15px; background-color: orange; margin-right: 5px; margin-left: 100px;"></span> Comercialización |
|--|---|---|

Venta de maíz forrajero en centrales de abasto.

Traslado de la cosecha de maíz a centros de acopio.

Siembra y cosecha de maíz forrajero.

Venta de maíz forrajero en los comercios de las regiones ganaderas.

5. Escribe en la imagen la letra de cada tipo de industria según los productos que genera.

- A. Industria de alimentos y bebidas
- B. Industria automotriz
- C. Industria química
- D. Industria textil
- E. Industria maderera
- F. Industria pesada














6. Anota el número que relaciona los párrafos con el tipo de países.

1. Países industrializados

Corresponden a regiones como el centro de África, donde las condiciones socioeconómicas impiden un desarrollo industrial importante.

2. Países manufactureros

Tienen un gran desarrollo de industria pesada, entre ellos se encuentran países de América del Norte y Europa Occidental, así como Japón.

3. Países con poca o nula industrialización

Cuentan con industrias como las de procesamiento de alimentos, automotriz y de aparatos eléctricos, entre otras; ejemplos de ello son México, Brasil e India.



7. Subraya las palabras que completen el texto de manera adecuada.

Uno de los principales (productores/ productos) que se consumen a escala mundial son los de origen textil, como las (prendas/ artículos) de vestir. Algunos de los mayores productores en el (continente/ mundo) son los países (asiáticos/ europeos) como China, India, Corea del Sur, Turquía y Pakistán. Gran cantidad de prendas de vestir son (vendidas/ maquiladas) en países poco desarrollados; sin embargo, son (comercializadas/ consumidas) por importantes firmas desde países industrializados.

8. Completa la tabla ordenando los países por el lugar que ocupan en la exportación de combustibles.

Países con mayores ingresos por exportaciones de combustibles (en millones de dólares): Países Bajos, 664 000; China, 2. 21 billones; Alemania, 1. 45 billones; Japón, 715 000 millones; y EUA, 1. 57 billones.

Países exportadores de combustibles		
Continente	País	Lugar en el mundo
		1°
		2°
		3°
		4°
		5°

9. Descubre en la sopa de letras seis de los países más industrializados.

O	N	u	M	Q	w	e	r	y	y	O	P	t	r	L	G	m	T	F	P	P	J	
E	s	t	a	d	o	s	U	n	i	d	o	s	d	e	A	m	é	r	i	c	a	
R	e	i	n	o	U	n	i	d	o	G	e	r	F	r	a	n	c	i	a	L	p	
l	s	l	a	n	d	i	a	N	m	G	S	u	e	c	i	a	k	n	g	h	ó	
s	w	F	d	F	A	u	s	t	r	a	l	i	a	d	f	m	n	c	y	U	N	
o	H	K	l	m	u	y	g	t	o	r	M	o	p	y	t	g	k	l	h	f	J	

10. Lee y ordena las ideas de 1 a 4 según su aparición.

Los recursos naturales dependen de las características geográficas de cada región y determinan las actividades primarias que se pueden desarrollar y las materias primas que se producen. Los países industrializados compran dichos insumos a quienes los producen y venden maquinaria a los países manufactureros; ambos elaboran y comercializan productos para su consumo inmediato. Los países industrializados participan en todos los ámbitos del comercio internacional.

- Los países industrializados tienen la capacidad de procesar las materias primas.
- Los países industrializados influyen en el comercio internacional.
- Las actividades económicas primarias dependen de los recursos naturales disponibles.
- Los recursos naturales de una región dependen de sus características geográficas.

11. Une los párrafos y su complemento.

Para su comercialización, los productos necesitan trasladarse por medio del...

exterior.

Para trasladar los productos de un país a otro se utilizan...

los medios de comunicación.

Los centros de distribución de productos para su comercialización se localizan principalmente en...

transporte.

El comercio que se realiza dentro de un país, entre ciudades, y de región a región se conoce cómo...

diseñadores, publicistas y otros.

El comercio que se realiza entre países se denomina...

medios de transporte terrestres, aéreos y marítimos.

La difusión comercial de los productos se realiza por medio de...

interior.

La comercialización de productos requiere el apoyo de servicios profesionales como...


las ciudades.

12. Escribe en cada imagen el número del texto con el que se relaciona.

- 1. Centros de producción manufacturera
- 2. Venta directa al consumidor
- 3. Traslado de productos al exterior e interior de un país
- 4. Medios electrónicos de difusión
- 5. Centros de acopio y distribución en las ciudades
- 6. Anuncio comercial














13. Lee la tabla y contesta.

- ¿Cuál es el tema de la tabla?  
\_\_\_\_\_
- ¿Cuántos países asiáticos aparecen?  
\_\_\_\_\_
- ¿Cuántos países americanos aparecen?  
\_\_\_\_\_
- ¿Qué continente no figura en la lista?  
\_\_\_\_\_
- ¿Qué país tiene el primer lugar por exportaciones de carne?  
\_\_\_\_\_
- ¿Qué continente exporta la mayor cantidad de carne?  
\_\_\_\_\_

Exportaciones de carne en 2018	
Exportadores	Toneladas
Brasil	2025 000
India	1900 000
Australia	1610 000
EUA	1372 000
Nueva Zelanda	560 000
Canadá	480 000
Uruguay	420 000
Paraguay	400 000
Unión Europea	370 000
Argentina	350 000

Para profundizar en este aprendizaje, puedes consultar:

Libro de texto gratuito (LTG), sexto grado, páginas 128 a 135.

Cuaderno de actividades, Geografía, sexto grado, páginas 48 a 50.